


PROBLEMES DE MATEMÀTIQUES

TERCER DE PRIMÀRIA

CEIP MEDITERRANI



SETMANA DEL 30 DE MARÇ AL 3 D'ABRIL



**Operacions
i problemes**
2n cicle

Nom _____ Data _____

• **Suma.**

$$\begin{array}{r} 473 \\ 186 \\ + 289 \\ \hline \end{array}$$

$$\begin{array}{r} 946 \\ 98 \\ + 697 \\ \hline \end{array}$$

$$\begin{array}{r} 83 \\ 597 \\ + 387 \\ \hline \end{array}$$

$$\begin{array}{r} 526 \\ 849 \\ + 797 \\ \hline \end{array}$$

• **Resta.**

$$\begin{array}{r} 6403 \\ - 206 \\ \hline \end{array}$$

$$\begin{array}{r} 7224 \\ - 305 \\ \hline \end{array}$$

$$\begin{array}{r} 8204 \\ - 197 \\ \hline \end{array}$$

$$\begin{array}{r} 4301 \\ - 509 \\ \hline \end{array}$$

• **Multiplica.**

$$\begin{array}{r} 432 \\ \times 4 \\ \hline \end{array}$$

$$\begin{array}{r} 564 \\ \times 6 \\ \hline \end{array}$$

$$\begin{array}{r} 1542 \\ \times 8 \\ \hline \end{array}$$

$$\begin{array}{r} 2357 \\ \times 9 \\ \hline \end{array}$$

• **Calcula.**

$2.492 + 5.678 = \underline{\hspace{2cm}}$

$6.024 - 3.819 = \underline{\hspace{2cm}}$

$1.592 - 759 = \underline{\hspace{2cm}}$

$7.100 - 985 = \underline{\hspace{2cm}}$

$4.926 + 7.296 = \underline{\hspace{2cm}}$

$725 + 6.854 = \underline{\hspace{2cm}}$

• **Multiplica.**

$12 \times 5 = \underline{\hspace{2cm}}$

$56 \times 5 = \underline{\hspace{2cm}}$

$68 \times 4 = \underline{\hspace{2cm}}$

$24 \times 3 = \underline{\hspace{2cm}}$

$42 \times 7 = \underline{\hspace{2cm}}$

$50 \times 2 = \underline{\hspace{2cm}}$

$31 \times 2 = \underline{\hspace{2cm}}$

$85 \times 5 = \underline{\hspace{2cm}}$

$26 \times 6 = \underline{\hspace{2cm}}$

$93 \times 3 = \underline{\hspace{2cm}}$

$13 \times 9 = \underline{\hspace{2cm}}$

$21 \times 8 = \underline{\hspace{2cm}}$

• **Calcula.**



Nom _____ Data _____

• **Calcula.**

$$\begin{array}{r} 4393 \\ 1787 \\ + 3648 \\ \hline \end{array}$$

$$\begin{array}{r} 3260 \\ - 899 \\ \hline \end{array}$$

$$\begin{array}{r} 8651 \\ 2499 \\ + 3614 \\ \hline \end{array}$$

$$\begin{array}{r} 5382 \\ - 1957 \\ \hline \end{array}$$

• **Multipliqua.**

$$\begin{array}{r} 128 \\ \times 3 \\ \hline \end{array}$$

$$\begin{array}{r} 497 \\ \times 2 \\ \hline \end{array}$$

$$\begin{array}{r} 237 \\ \times 4 \\ \hline \end{array}$$

$$\begin{array}{r} 116 \\ \times 8 \\ \hline \end{array}$$

$$\begin{array}{r} 116 \\ \times 6 \\ \hline \end{array}$$

$$\begin{array}{r} 231 \\ \times 7 \\ \hline \end{array}$$

$$\begin{array}{r} 106 \\ \times 9 \\ \hline \end{array}$$

$$\begin{array}{r} 125 \\ \times 5 \\ \hline \end{array}$$

• **Completa.**

$$\begin{array}{r} \square \\ - 293 \\ \hline 281 \end{array}$$

$$\begin{array}{r} \square \\ - 347 \\ \hline 177 \end{array}$$

$$\begin{array}{r} \square \\ - 196 \\ \hline 438 \end{array}$$

$$\begin{array}{r} \square \\ - 798 \\ \hline 125 \end{array}$$

$$\begin{array}{r} 692 \\ - \square \\ \hline 567 \end{array}$$

$$\begin{array}{r} 431 \\ - \square \\ \hline 342 \end{array}$$

$$\begin{array}{r} 905 \\ - \square \\ \hline 625 \end{array}$$

$$\begin{array}{r} 281 \\ - \square \\ \hline 128 \end{array}$$

• **Calcula.**

Nom _____ Data _____

• Completa.

$3 \times \square = 15$

$6 \times \square = 24$

$5 \times \square = 20$

$7 \times \square = 14$

$3 \times \square = 9$

$6 \times \square = 42$

$5 \times \square = 35$

$7 \times \square = 28$

$3 \times \square = 18$

$6 \times \square = 54$

$5 \times \square = 40$

$7 \times \square = 49$

• Completa la taula.

	6	4	3	5	8	7	9	10	0
× 4									
× 6									
× 5									
× 7									
× 8									
× 2									

• Divideix.

$12 \overline{) 6}$

$27 \overline{) 3}$

$72 \overline{) 8}$

$54 \overline{) 9}$

$49 \overline{) 7}$

$32 \overline{) 4}$

$18 \overline{) 2}$

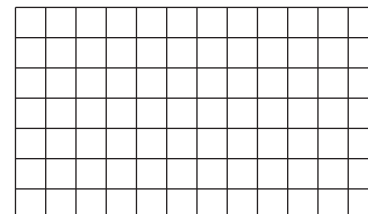


$40 \overline{) 5}$

• Col·loca i divideix.

$30 : 5$

$36 : 4$

$42 : 7$



Nom _____ Data _____

Al meu jardí tinc 21 pomeres com aquesta. Quantes pomes puc recollir en total?



1. Comprén.


Pregunta: _____

Dades: _____

2. Pensa què cal fer.

- una suma.
 una multiplicació.
 una suma i una multiplicació.

3. Calcula.



Solució: _____

Al restaurant del meu poble preparen el saló per a la celebració d'una boda. Hi han col·locat 110 taules amb 5 cadires cada una. Quantes persones hi podran seure?

1. Comprén.


Pregunta: _____

Dades: _____

2. Pensa què cal fer.

- una suma.
 una resta i una suma.
 una multiplicació.

3. Calcula.



Solució: _____

Nom _____ Data _____

Lluís té **37** DVD de pel·lícules de terror
i el doble de pel·lícules d'humor.
Quantes pel·lícules d'humor té Lluís?


1. Comprén.

Pregunta: _____

Dades: _____

2. Pensa què cal fer.

- una resta.
 una multiplicació.
 una suma i una multiplicació.

3. Calcula.

Solució:

Carles vol saber quant costen
les sabates d'esport. El dependent
li ha dit que costen el triple
que les sabates de carrer.
Quant costen les sabates d'esport?


**1. Comprén.**

Pregunta: _____

Dades: _____

2. Pensa què cal fer.

- una multiplicació.
 una suma.
 una resta i una suma.

3. Calcula.

Solució:

Nom _____ Data _____

La mare de David ha anat a un concurs de televisió i li han preguntat, quants grams d'arròs hi ha en 6 sacs com aquest?



1. Comprén.


Pregunta: _____

Dades: _____

2. Pensa què cal fer.

- una suma.
 una multiplicació.
 una suma i una multiplicació.

3. Calcula.



Solució:

Els tuaregs han arribat amb 50 camells carregats de mercaderies. 5 camells porten 138 paquets de dàtils cada un. Quants paquets de dàtils porten en total?

1. Comprén.


Pregunta: _____

Dades: _____

2. Pensa què cal fer.

- una suma.
 una resta.
 una multiplicació.

3. Calcula.



Solució:

Nom _____ Data _____

A l'hotel on estan de vacances els meus iaïos hi ha **73** taules al menjador i **34** al jardí. En cada una de les taules hi ha **8** cadires. Quantes cadires tenen en total?

1. Comprén.


Pregunta: _____

Dades: _____

2. Pensa què cal fer.

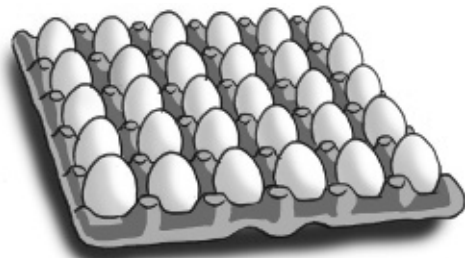
- una suma.
- una suma i una multiplicació.
- una resta i una multiplicació.

3. Calcula.



Solució:

Lluc ha comprat **2** cartons d'ous com aquest. En col·locar-los en el frigorífic se li han trencat **7** ous. Quants ous li queden en el frigorífic?



1. Comprén.


Pregunta: _____

Dades: _____

2. Pensa què cal fer.

- una suma i una resta.
- una multiplicació i una resta.
- una multiplicació.

3. Calcula.



Solució:

Nom _____ Data _____

En un supermercat han de canviar les rodes dels **129** carros que tenen. Ja hi han posat **342** rodes. Quantes rodes els queden per posar?



1. Comprén.


Pregunta: _____

Dades: _____

2. Pensa què cal fer.

- una resta.
 una multiplicació i una resta.
 una suma i una multiplicació.

3. Calcula.



Solució: _____

A l'escola de cuina van cada dia **234** alumnes de matí i **145** de vesprada. Quants alumnes van a l'escola de dilluns a divendres?

1. Comprén.


Pregunta: _____

Dades: _____

2. Pensa què cal fer.

- una suma i una multiplicació.
 una resta i una suma.
 una multiplicació.

3. Calcula.



Solució: _____
